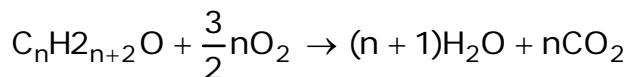


CHIMIE ORGANIQUE.

1°) Formule semi-développée est le nom de A



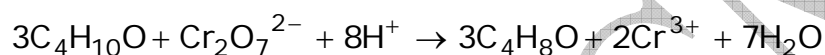
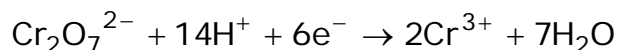
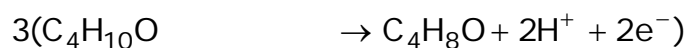
$$14n + 18 \qquad (n+1)18$$

$$3,7 \qquad 4,5$$

$$\frac{14n + 18}{3,7} = (n+1) \frac{18}{4,5} \Rightarrow n = 4$$

FSD : $CH_3CH_2CHOHCH_3$ Nom : butan-2ol

2° Equation – bilan :



3°) Masse d'ester formé :

$$\alpha = 67\% = \frac{\text{nombre de mol d'ester formé}}{\text{nombre de mol d'acide utilisé}} = \frac{m_e}{M_e} \times \frac{M_a}{m_a}$$

$$\Rightarrow m_e = \frac{0,67 \times M_e \times m_a}{M_a}$$

$$AN \quad m_e = \frac{0,67 \times 9 \times 118}{60} g = 11,658g$$

CHIMIE MINERALE :

$$1) \text{ Montrons que } \frac{[CH_3NH_2]}{[CH_3NH_3^+]} \approx \frac{V_B}{V_A}$$

Espèce chimique, $[H_2O], [H_3O^+], [OH^-], [CH_3NH_2], [CH_3NH_3^+], [Cl^-]$

Electroneutralité : $[H_3O^+] \ll [OH^-] \ll [Cl^-] \Rightarrow [CH_3NH_2] \ll [Cl^-]$

Conservation de la matière :

$$[CH_3NH_3^+] + [CH_3NH_2] = \frac{C_B V_B}{V_A + V_B} + \frac{C_A V_A}{V_A + V_B}$$

$$\frac{C_A V_A}{V_A + V_B} + [\text{CH}_3\text{NH}_3^+] = \frac{C_B V_B}{V_A + V_B} + \frac{C_A V_A}{V_A + V_B}$$

$$\frac{[\text{CH}_3\text{NH}_2]}{[\text{CH}_3\text{NH}_3^+]} + = \frac{C_B V_B}{C_A V_A} \text{ or } C_B = C_A$$

$$= \frac{V_B}{V_A}$$

2) $\text{p}K_A = -\log K_A$

$$\text{p}K_A = \text{pH} - \log \frac{[\text{CH}_3\text{NH}_2]}{[\text{CH}_3\text{NH}_3^+]} = \text{pH} - \log \frac{V_B}{V_A}$$

3) Calcul de V_A et V_B

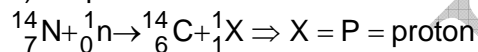
$$V_A + V_B = 90 \text{ ml}$$

$$-\log \frac{V_B}{V_A} = \text{p}K_A = \text{pH} \Rightarrow \frac{V_B}{V_A} = 10^{-(\text{p}K_A - \text{pH})} \quad \frac{V_B}{V_A} = 2$$

$$\Rightarrow V_A = 30 \text{ ml} \quad \text{et} \quad V_B = 60 \text{ ml}$$

PHYSIQUE NUCLEAIRE

1) Equation de la réaction nucléaire



2) a) Activité à la date $t = 11.200 \text{ ans} = 2T$

$$A = A_0 e^{-\frac{\ln 2 t}{T}} = \frac{A_0}{2^2} = \frac{\lambda N_0}{2^2} = \frac{\ln 2}{T} \times \frac{m_0 \times N}{2^2 M_0}$$

$$A = \frac{0,7 \times 7 \cdot 10^{-3} \times 6 \cdot 10^{23}}{5600 \times 365 \times 24 \times 3600 \times 2^2 \times 14} \text{ Bq}$$

$$A = 2,972 \cdot 10^8 \text{ Bq}$$

b) Age approximatif du bois préhistorique :

$$A_0 e^{-\lambda t}$$

$$A(t) = A_0 e^{-\lambda t} = \frac{A_0}{7}$$

$$e^{\lambda t} = 7$$

$$t = \frac{\ln 7}{\lambda} = \frac{\ln 7}{\ln 2} \times T$$

$$\text{AN } t = \frac{1,95}{0,7} \times 5600 \text{ ans} = 15600 \text{ ans}$$

OPTIQUE

1) Montrons que $f' = \frac{d}{4}$

$$\gamma = \frac{\overline{A'B'}}{\overline{AB}} = \frac{\overline{OA'}}{\overline{OA}} = -1 \Rightarrow \overline{OA'} = -\overline{OA}$$

$$\overline{AA'} = d = 20 \text{ cm} = \overline{AO} + \overline{OA'} = 2\overline{OA'}$$

$$\frac{1}{\overline{OA'}} - \frac{1}{\overline{OA}} = \frac{1}{f'}$$

$$\frac{2}{\overline{OA'}} = \frac{1}{f'} \Rightarrow f' = -\frac{\overline{OA'}}{2} = \frac{d}{4}$$

2) a) Caractéristiques de l'image

$$\text{Position } \frac{1}{\overline{OA'}} - \frac{1}{\overline{OA}} = \frac{1}{f'} \Rightarrow \overline{OA'} = \frac{\overline{OA} \times f'}{\overline{OA} + f'}$$

$$\text{AN : } \overline{OA'} = \frac{-3 \times 5 \text{ cm}}{-3 + 5} = -7,5 \text{ cm}$$

Nature : $\overline{OA'} < 0$: image virtuelle

$$\text{grandeur } \gamma = \frac{\overline{OA'}}{\overline{OA}} = \frac{\overline{A'B'}}{\overline{AB}} = \frac{-7,5}{-3} = 2,5 > 0$$

$$\Rightarrow \overline{A'B'} = 2,5 \overline{AB}$$

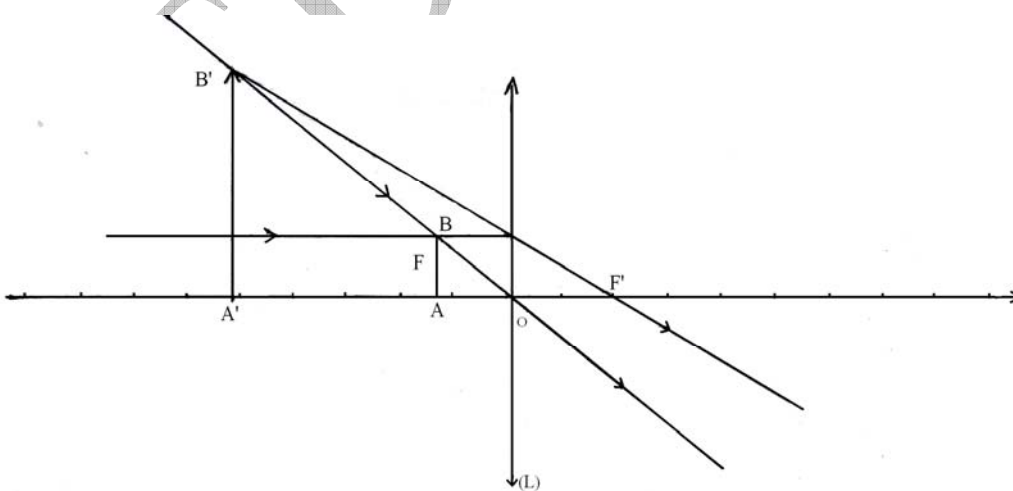
$$A'B' = 2,5 \times 1 \text{ cm} = 2,5 \text{ cm}$$

Sens : $\alpha > 0$ c'est une image droite

b) Construction géométrique :

Echelle : 1 cm pour 2,5 cm sur l'axe optique.

Vraie grandeur pour l'objet



ELECTROMAGNETISME

A 1) Expression littérale de V_1 et V_2

$$\frac{1}{2}mV^2 = qU \Rightarrow V = \sqrt{\frac{2qU}{m}}$$

$$V_1 = \sqrt{\frac{2qU}{m_1}} \quad V_2 = \sqrt{\frac{2qU}{m_2}}$$

2) Expression de R_1 et R_2 :

$$R_1 = \frac{m_1 V_1}{qB} = \frac{m_1}{qB} \sqrt{\frac{2qU}{m_1}}$$

$$R_2 = \frac{m_2 V_2}{qB} = \frac{m_2}{qB} \sqrt{\frac{2qU}{m_2}}$$

3) Calcul de C_1C_2

$$d = C_1C_2 = 2R_2 - 2R_1 = 2(R_2 - R_1)$$

$$= \frac{2}{B} \sqrt{\frac{2U}{q}} (\sqrt{m_2} - \sqrt{m_1})$$

AN $d = 2,8 \text{ cm}$

B 1) Montrons que $\text{tg} \varphi = Q \left(\frac{\omega}{\omega_0} - \frac{\omega_0}{\omega} \right)$

$$\text{tg} \varphi = \frac{L\omega - \frac{1}{c\omega}}{R+r} = \frac{L\omega}{R+r} - \frac{1}{(R+r)c\omega}$$

On sait que $Q = \frac{L\omega_0}{R+r} = \frac{1}{(R+r)c\omega_0}$

$$\text{tg} \varphi = \frac{L\omega \times \omega_0}{(R+r)\omega_0} - \frac{1 \times \omega_0}{(R+r)c\omega \omega_0}$$

$$= Q \frac{\omega}{\omega_0} - Q \frac{\omega_0}{\omega} = Q \left(\frac{\omega}{\omega_0} - \frac{\omega_0}{\omega} \right)$$

2) Montrons que $Z = (r+R) + \sqrt{1+Q^2 \left(\frac{\omega}{\omega_0} - \frac{\omega_0}{\omega} \right)^2}$

$$Z = \sqrt{(R+r)^2 + \left(L\omega - \frac{1}{c\omega} \right)^2}$$

$$Z = \sqrt{(R+r)^2 + \left(\frac{(R+r)L\omega\omega_0}{(R+r)\omega_0} - \frac{(R+r)\omega_0}{(R+r\omega_0).c\omega} \right)^2}$$

$$= \sqrt{(R+r)^2 + (R+r)^2 Q^2 \left(\frac{\omega}{\omega_0} - \frac{\omega_0}{\omega} \right)^2} = (R+r) \sqrt{1+Q^2 \left(\frac{\omega}{\omega_0} - \frac{\omega_0}{\omega} \right)^2}$$

MECANIQUE

1) Calcul de l'angle α

$$\text{TEC. } \frac{1}{2}mv^2 = mgh = mgl(1 - \cos \alpha)$$

$$\cos \alpha = 1 - \frac{v^2}{2gl}$$

$$\cos \alpha = 0,5 \Rightarrow \alpha = 60^\circ$$

2) Vitesse de la bille après le choc :

Conservation de la quantité du mouvement :

$$\vec{P}_1 + \vec{P}_2 = \vec{P}'_1 + \vec{P}'_2$$

$$m_1 \vec{V}_1 + 0 = m_1 \vec{V}'_1 + m_2 \vec{V}_2$$

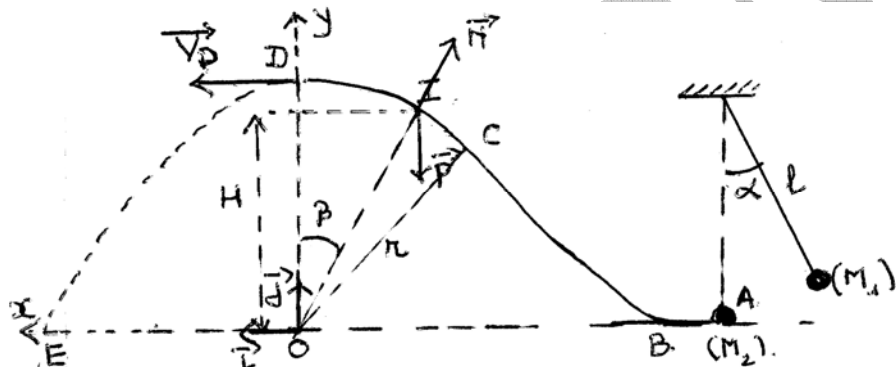
$$m_1 \vec{V}_1 = m_1 \vec{V}'_1 + m_2 \vec{V}_2$$

$$\vec{V}'_1 = \frac{m_1 \vec{V}_1 - m_2 \vec{V}_2}{m_1}$$

$$\text{AN } \vec{V}'_1 = \frac{-0,14 + 0,23}{0,2} \text{ms}^{-1} = 1 \text{ms}^{-1}$$

$$\vec{V}'_1 = 1 \text{ms}^{-1}$$

3) a) Vitesse de la bille au point I



$$\begin{aligned} \text{T.E.C } \frac{1}{2}m_2 V_1^2 - \frac{1}{2}m_2 V_A^2 &= -m_2 g H \\ &= -m_2 r \cos \beta \\ \Rightarrow V_1 &= \sqrt{V_A^2 - 2gr \cos \beta} \end{aligned}$$

b) Réaction de la piste sur la bille M_2 au point I

$$\text{T.C.I } \vec{P} + \vec{N} = m_2 \vec{a}$$

$$\begin{aligned} \text{Projection } m_2 g \cos \beta - N &= m_2 \frac{V_A^2}{r} \\ \Rightarrow N &= m_2 \left(3g \cos \beta - \frac{V_A^2}{r} \right) \end{aligned}$$

c) Calcul de r :

$$h = r \Rightarrow V_D = \sqrt{V_A^2 - 2gr}$$

$$V_D^2 = V_A^2 - 2gr \Rightarrow r = \frac{V_A^2 - V_0^2}{2g}$$

$$\text{AN} \quad r = 0,75\text{m}$$

4) a) Equation cartésienne de la trajectoire de la bille M_2 :

$$D \begin{cases} x_D = 0 \\ y_D = r \end{cases} \quad \vec{V}_D \begin{cases} V_{Dx} = V_D \\ V_{Dy} = 0 \end{cases}$$

$$g \begin{cases} g_x = 0 \\ g_y = -g \end{cases}$$

$$x(t) = V_D t$$

$$y(t) = -\frac{1}{2}gt^2 + r$$

$$\Rightarrow t = \frac{x}{V_D}$$

$$\Rightarrow y = -\frac{1}{2}g \frac{x^2}{V_D^2} + r$$

$$\Rightarrow y = -5x^2 + 0,75$$

b) Calcul de la distance OE (point d'impact et le point d'impact sur OX) :

$$\begin{cases} d = OE = x_E \\ y_E = 0 \end{cases}$$

$$0 = -5d^2 + 0,75$$

$$d = \sqrt{\frac{0,75}{5}} = 0,387\text{m}$$